



وزارة التربية

إدارة الشؤون التعليمية

مراقبة الامتحانات وشؤون الطلبة

نموذج الإجابة

المرحلة المتوسطة

الدور الثاني (كامل المنهج)

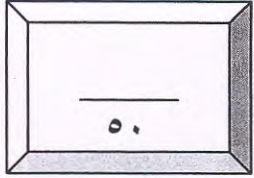
المادة : الاجتماعيات

الصف : الثامن

العام الدراسي

2016 / 2015

منطقة مبارك الكبير التعليمية



أولاً : الأسئلة الموضوعية :-

السؤال الأول يتكون من : (أ - ب - ج - د - هـ - و) :-

أ- اختر الإجابة المناسبة لكل عبارة مما يلي من بين البدائل التي تليها بوضع خط تحتها :-

١- الدولة التي يوجد بها سد مأرب تسمى : ص ٢١

(أ- السعودية ب- الكويت ج- عمان د- اليمن) .

٢- العالم المسلم الذي ألف كتاب المناظر يسمى : ص ٧٤

(أ- الرازي ب- الحسن بن الهيثم ج- الإدريسي د- أبو الأسود الدؤلي) .

٣- تأسس بيت الزكاة الكويتي في عام : ص ١٠٥

(أ- ١٩٨٠ م ب- ١٩٨١ م ج- ١٩٨٢ م د- ١٩٨٣ م) .

٤- أول الخلفاء الراشدين هو : ص ٤٢

(أ- علي بن أبي طالب ب- أبو بكر الصديق ج- عثمان بن عفان د- عمر بن الخطاب) .

٥- تبلغ مساحة العالم الإسلامي حوالي : ص ٨٣

(أ- ٣٧ مليون كم^٢ ب- ٣٨ مليون كم^٢ ج- ٣٩ مليون كم^٢ د- ٤٠ مليون كم^٢) .

٦- عبادة النار عند الفرس تسمى : ص ٢٤

(أ- الوثنية ب- المجوسية ج- اليهودية د- الحنيفية)

ب- أكمل العبارات التالية بما يناسبها :-

١- آخر الخلفاء الأمويين يسمى مروان بن محمد..... ص ٥٢

٢- تجمع الجزية من أهل الذمة مرة واحدة كل سنة..... ص ٧٠

٣- تأسست منظمة المؤتمر الإسلامي في عام..... ١٩٦٩..... م ص ٨٥

٤- مقر وكالة الأنباء الإسلامية في مدينة تسمى..... جدة..... ص ١٠٧

٥- الأمير الذي تم إرسال لواء اليرموك إلى مصر في عهده اسمه..... صباح السالم..... ص ١٠١

٦- أول مكان هاجر إليه المسلمين يسمى الحبشة..... ص ٢٨

ج- صحح ما تحته خط في العبارات التالية :-

١- مقدار الزكاة الواجبة على الأموال النقدية عن المسلمين ٤,٥% (..... ٢,٥.....) ص ٧٠

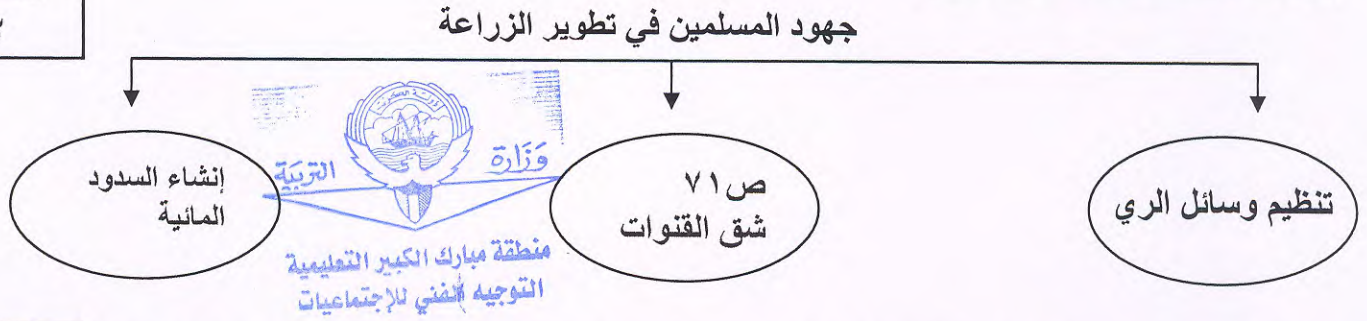
٢- القائد الإسلامي الذي بني مدينة القيروان يسمى طارق بن زياد (..... عقبة بن نافع.....) ص ٥٠

٣- عاصمة جمهورية السنغال مدينة تسمى أستانا (..... داكار.....) ص ٨٧

٤- أول مسجد بني في الإسلام يسمى القبلتين (..... قباء.....) ص ٢٩

د- أكمل المخطط السهمي التالي :-

٢



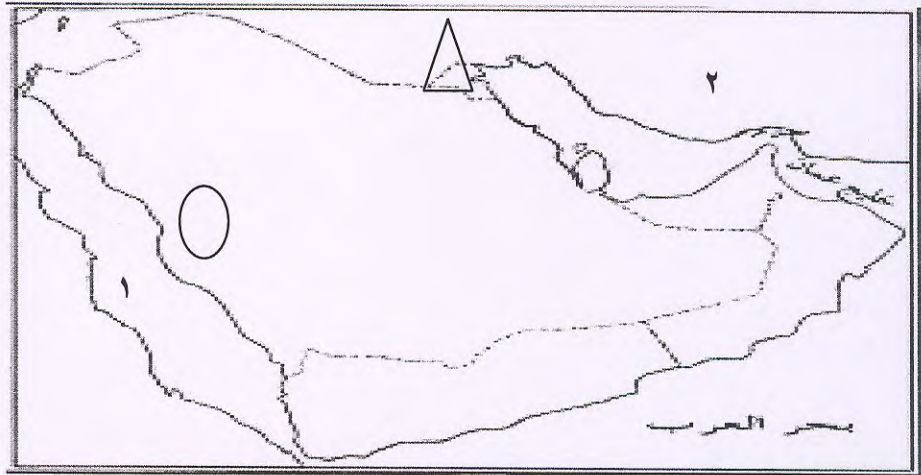
هـ- اختر من المجموعة (أ) ما يناسبها من المجموعة (ب) بوضع الرقم المناسب في مكانه الصحيح :

٣

المجموعة (أ)	الرقم المناسب	المجموعة (ب)
اسم القائد		العمل الذي قام به
١- سعد بن أبي وقاص. ص ٤٥	(٢)	- فتح بلاد ما وراء النهر
٢- قتبية بن مسلم. ص ٤٩	(-)	- معركة تهوده
٣- زهير بن قيس البلوي. ص ٥٠	(١)	- القادسية
	(٣)	- معركة ممس

و- لاحظ الخريطة التالية ثم نفذ عليها ما هو مطلوب منك :-

٤



- أكتب مدلولات الأرقام التالية :-

- الرقم (١) على الخريطة يمثل بحر قديما يسمىبحر القلزم.....ص ١٧

- الرقم (٢) على الخريطة يمثل إمبراطورية تسمىالساسانية.....ص ٢٤

- حدد كل مما يلي على الخريطة باستخدام الرموز التالية :-

- مدينة مكة المكرمة بالرمز (٢٨)

- معركة كاظمة (ذات السلاسل) بالرمز (٤٥)

٢٥


درجة السؤال الموضوعي

ثانيا : الأسئلة المقالية :-
- السؤال الثاني يتكون من : (أ - ب - ج)

أ- فسر المفاهيم التالية :-

١- حدود سياسية : هي عبارة عن خطوط حددت بواسطة الإنسان ورسمت حتى تفصل بين سيادة دولة ودولة

أخرى . ص ٩٠



٢- قبيلة : هي مجموعة من الناس تجمعهم وحدة الدم والمصلحة المشتركة . ص ١٨

٣- منظمة المؤتمر الإسلامي: هي منظمة إقليمية دولية تضم دول العالم الإسلامي المستقلة، وتضم في عضويتها

سبعا وخمسين دولة إسلامية، ومقرها مدينة جدة في المملكة العربية السعودية . ص ٨٥

٤- خراج : وهو المال الذي يفرض على الأراضي الزراعية . ص ٧٠

ب- قارن بين كلا مما يلي حسب بما هو مطلوب منك في الجدول التالي :-

وجه المقارنة	غزوة أحد	غزوة الخندق
العام	٥٣، ٦٢٥ م ص ٣٤	٥ هـ، ٦٢٦ م ص ٣٥، ٣٦
النتائج	* أثرت الهزيمة في نفوس المسلمين - ارتفاع الروح المعنوية لمشركي قريش طرد يهود بني النضير	* هزيمة قريش وظهر ضعفها . - ازدياد قوة المسلمين ، تشكيك القبائل في قدرتها ، طرد يهود بني قريظة

ج- عدد معابر الحضارة الإسلامية إلى أوروبا :-

- ١- الحروب الصليبية..... الأندلس
- ٢- جزيرة صقلية..... بلاد الشام ص ٧٦

درجة السؤال الثاني

١٠

السؤال الثالث يتكون من : (أ - ب - ج) :



أ- قارن حسب ما هو مطلوب منك في الجدول التالي:-

٢

التعريف	أوجه المقارنة
هم أبناء قبائل أحرار انضموا للقبيلة الجديدة بدافع المصلحة فصاروا منها ، ويتم الانضمام بإحدى الطرق التالية (الجوار ، الحلف ، العتق) . ص ٢٢	طبقة الموالي
وهم من أبناء القبيلة التي يجمعهم نسب واحد مثل أبناء قبيلة قريش وثقيف	طبقة الأحرار

ب- أذكر اثنان مما يلي :-

١- أسباب سقوط الدولة الأموية .

* تعصب الأمويين للعرب ، تولية العهد لأكثر من شخص

* قيام الثورات الداخلية ضد بني أمية ، ظهور روح العصبية بين القبائل العربية ص ٥٢

٢- ازدهار الحياة العلمية لدى المسلمين .

* رعاية الإسلام للحياة العلمية ، ترجمة الكتب التراثية

* حرية الرأي ، تشجيع الخلفاء للعلماء في جميع العصور الإسلامية ص ٧٣

٣- أهم أعمال أبو بكر الصديق بعد توليه الخلافة .

* القضاء على المرتدين ، جمع القرآن الكريم

* بدء الفتوحات الإسلامية ، تنظيم إدارة الدولة وتقسيم الجزيرة العربية إلى عدد من الولايات ص ٤٤

٦

درجة السؤال الثالث

٨

- ٤ -

- السؤال الرابع :- (يتكون من أ ، ب) :-

أ- أقرأ الفقرة التالية ثم أجب عن الأسئلة التي تليها :-

تعتبر دولة الكويت من الدول التي لها دور كبير في تقديم المساعدات المالية بشتى أنواعها ، ويتمثل ذلك من خلال أنشطة المؤسسات والهيئات الكويتية، ومنها الصندوق الكويتي للتنمية الاقتصادية وإسهاماته ومساعداته العديدة لكثير من الدول .


* أكمل الفراغات التالية بما يناسبها :-

١- أنشأ الصندوق الكويتي للتنمية الاقتصادية في عام ١٩٦١ م ص ١٠٤

٢- أنشأ الصندوق الكويتي للتنمية الاقتصادية في عهد الشيخ جابر الأحمد الصباح ص ١٠٤

* أكمل المخطط السهمي التالي بما هو مطلوب منك :

نطاقات عمل الصندوق الكويتي للتنمية الاقتصادية



ب- أكتب عن المشكلات الاقتصادية التي تعاني منها الأقليات الإسلامية :

* سوء استغلال الموارد الاقتصادية

* التخلف التقني (التكنولوجي) ، معظم الدول الإسلامية تعاني عجزا في ميزانها التجاري

* التبعية الاقتصادية لدول العالم الإسلامي ، انخفاض الدخل القومي ص ٩٣

درجة السؤال الثالث

٧

درجة الأسئلة المقالية

٢٥